

Nombre _____ Fecha _____


Recuerda

Para calcular el porcentaje de un número se multiplica dicho número por el tanto por ciento y se divide entre 100.


Por ejemplo: el 10% de 120 = $\frac{10 \times 120}{100} = 12$

1. Lee y resuelve.


En un camping hay 800 personas.
El 30% son niños. ¿Cuántos niños hay en el camping?



En el colegio de Marta hay 400 alumnos. El 18% de los alumnos estudian informática. ¿Cuántos alumnos estudian informática?



En un parque hay 200 árboles.
El 35% de los árboles son pinos y el resto son álamos. ¿Cuántos álamos hay en el parque?



Alicia ha comprado un lavavajillas que le ha costado 564 € y un horno que le ha costado 636 €. Al pagar le han hecho un descuento del 12%. ¿Cuánto ha tenido que pagar en total?

